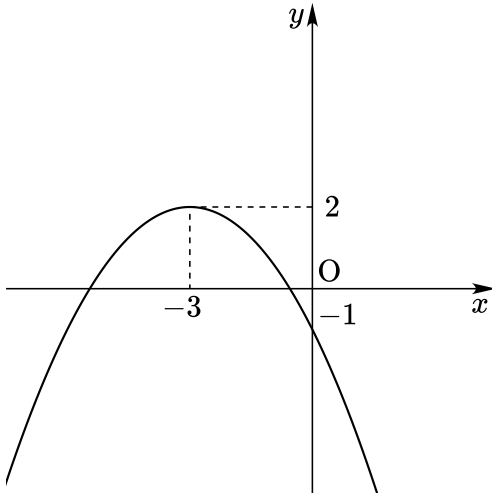


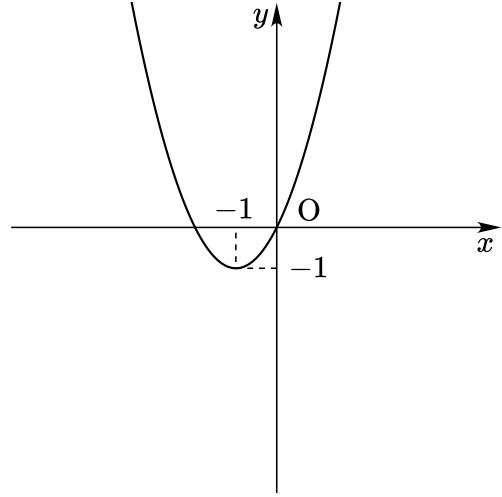


1. 다음 그림은 이차함수 $y = ax^2 + bx + c$ 의 그래프이다.
 $a + b + c$ 의 값은?



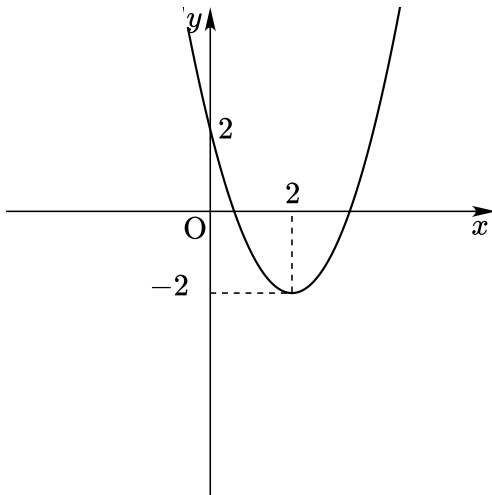
- ① $-\frac{16}{3}$ ② $-\frac{13}{3}$ ③ $-\frac{10}{3}$
④ $-\frac{7}{3}$ ⑤ $-\frac{4}{3}$

3. 다음 그림은 이차함수 $y = ax^2 + bx + c$ 의 그래프이다.
 $a + b + c$ 의 값은?



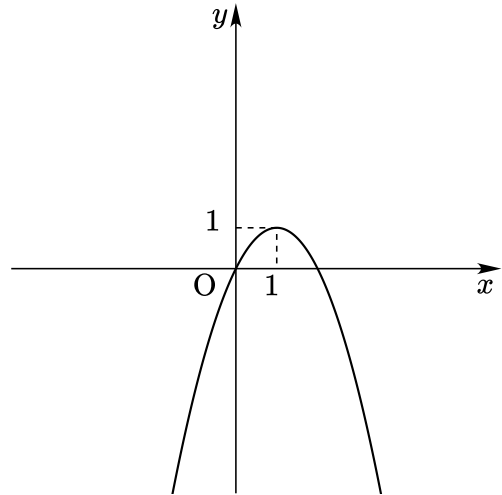
- ① 3 ② 4 ③ 5
④ 6 ⑤ 7

2. 다음 그림은 이차함수 $y = ax^2 + bx + c$ 의 그래프이다.
 $a + b + c$ 의 값은?



- ① -2 ② -1 ③ 0
④ 1 ⑤ 2

4. 다음 그림은 이차함수 $y = ax^2 + bx + c$ 의 그래프이다.
 $a + b + c$ 의 값은?



- ① 1 ② 2 ③ 3
④ 4 ⑤ 5