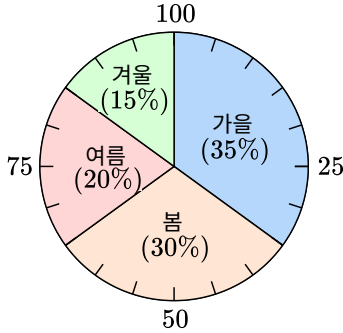




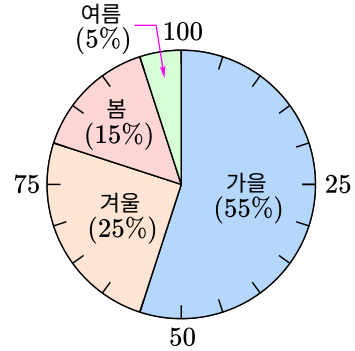
여러가지의 그래프

1. 어느 반 학생들의 좋아하는 계절을 조사하여 나타낸 원그래프입니다. 물음에 답하세요.



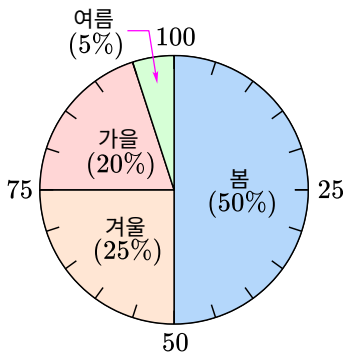
- (1) 봄을 좋아하는 학생수는 겨울을 좋아하는 학생수의 몇 배입니까?
- (2) 겨울을 좋아하는 학생 수가 6명이면 전체 학생 수는 몇 명입니까?
- (3) 가을을 좋아하는 학생 수는 몇 명입니까?

3. 어느 반 학생들의 좋아하는 계절을 조사하여 나타낸 원그래프입니다. 물음에 답하세요.



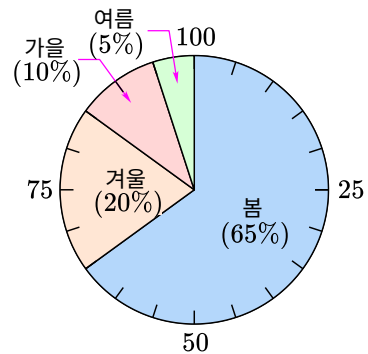
- (1) 겨울을 좋아하는 학생수는 여름을 좋아하는 학생수의 몇 배입니까?
- (2) 겨울을 좋아하는 학생 수가 5명이면 전체 학생 수는 몇 명입니까?
- (3) 봄을 좋아하는 학생 수는 몇 명입니까?

2. 어느 반 학생들의 좋아하는 계절을 조사하여 나타낸 원그래프입니다. 물음에 답하세요.



- (1) 가을을 좋아하는 학생수는 여름을 좋아하는 학생수의 몇 배입니까?
- (2) 가을을 좋아하는 학생 수가 4명이면 전체 학생 수는 몇 명입니까?
- (3) 봄을 좋아하는 학생 수는 몇 명입니까?

4. 어느 반 학생들의 좋아하는 계절을 조사하여 나타낸 원그래프입니다. 물음에 답하세요.



- (1) 겨울을 좋아하는 학생수는 가을을 좋아하는 학생수의 몇 배입니까?
- (2) 겨울을 좋아하는 학생 수가 4명이면 전체 학생 수는 몇 명입니까?
- (3) 봄을 좋아하는 학생 수는 몇 명입니까?